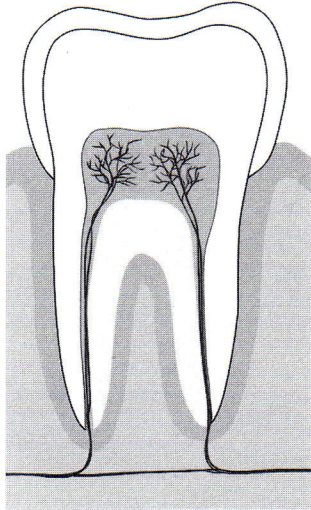
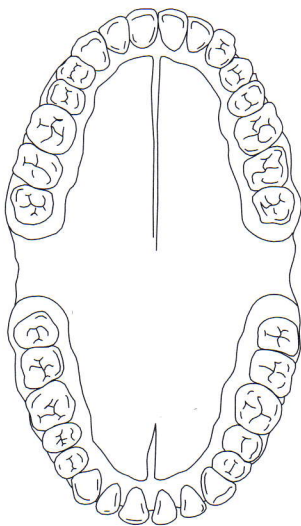


# Relie chaque mot à la partie du dessin correspondant



- émail
- dentine
- pulpe
- racine
- os
- ciment
- veines et vaisseaux sanguins

# Sur le dessin, écris pour chaque dent



- |    |                 |   |              |
|----|-----------------|---|--------------|
| I  | pour incisive   | C | pour canine  |
| PM | pour prémolaire | M | pour molaire |

# Complète les phrases avec le nombre de dents que tu as de chaque groupe ainsi que leur fonction

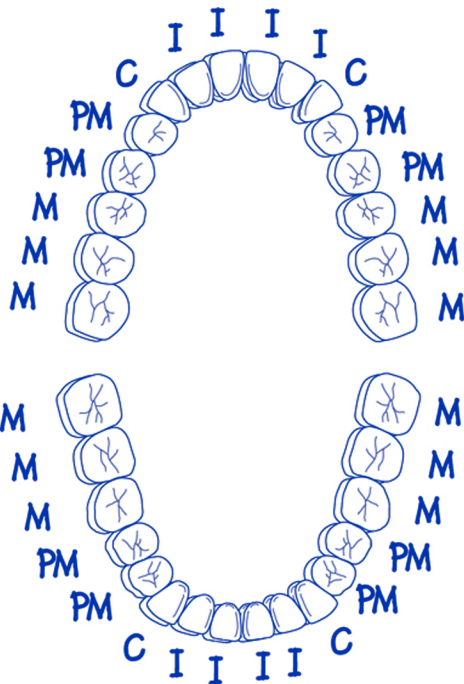
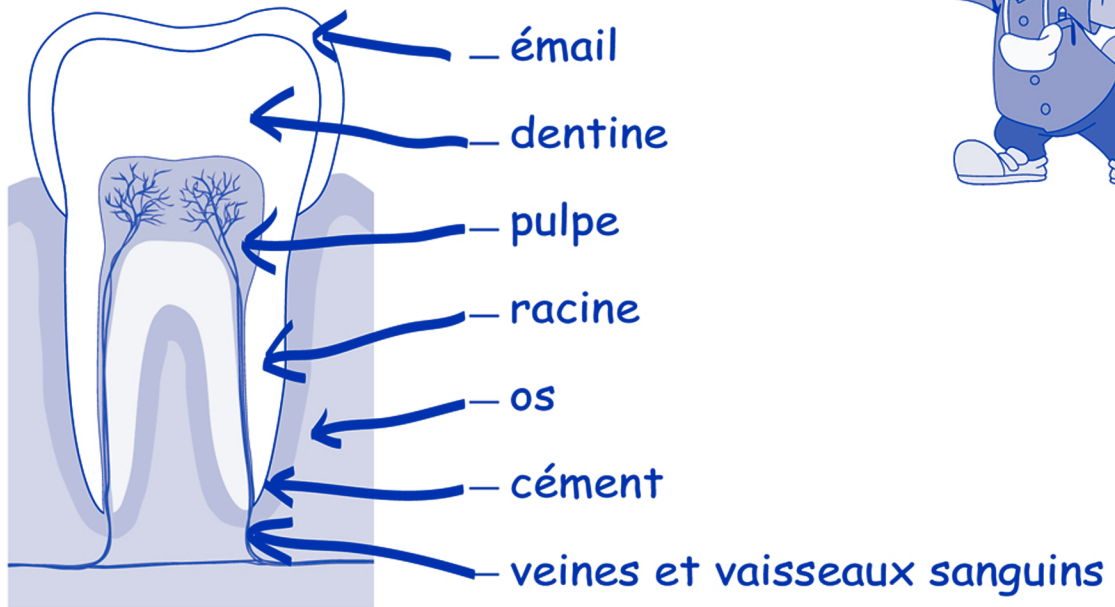
J'ai ..... incisives pour .....

J'ai ..... canines pour .....

J'ai ..... prémolaires pour .....

J'ai ..... molaires pour .....

Relie chaque mot à la partie du dessin correspondant



Sur le dessin, écris pour chaque dent :

I pour incisive                      C pour canine  
 PM pour prémolaires              M pour molaire

Complète les phrases avec le nombre de dents que tu as de chaque groupe ainsi que leur fonction.

J'ai .....8..... incisives pour ...COUPER.....  
 J'ai .....4..... canines pour ...DÉCHIQUETER.....  
 J'ai .....8..... prémolaires pour ...ÉCRASER.....  
 J'ai .....12..... molaires pour ...ÉCRASER.....